



Sobre el lado AB construye el triángulo ABC dados los lados AC y BC:



Sobre la recta dada construye un triángulo rectángulo conocida la hipotenusa h y un cateto AB:



Construye un rectángulo, sobre el lado AB dado, conocidos sus lados desiguales AB Y AD:





Construye un rectángulo a partir de la diagonal AB dada conocido también un lado ABy la diagonal AC:



Construye, a partir de la diagonal AC dada, un rombo conocida también su otra diagonal BD:



Construye un trapecio rectángulo a partir de A (vértice recto) conociendo la base mayor AB, la altura h y la diagonal AC:



Apellido Apellido, Nombre

Fecha

Nº Lista y grupo

1º ESO -

LASLAMINAS.ES

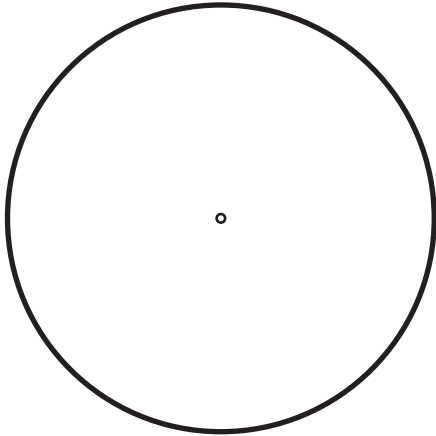
Título de la lámina

6- Triángulos y cuadriláteros

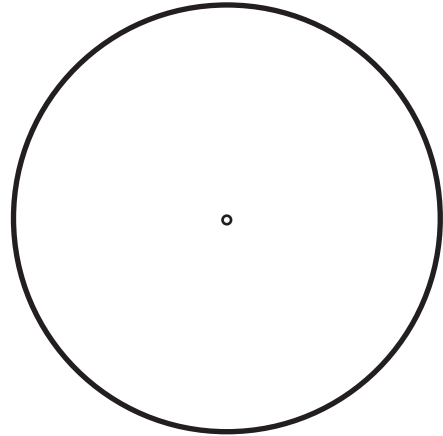
Dado el radio de circunferencia a , inscribir los polígonos regulares:

a


Triángulo equilátero



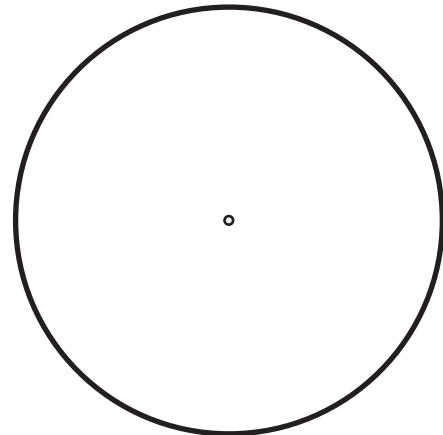
Cuadrado



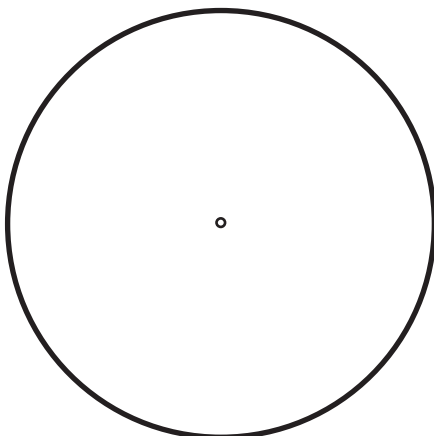
Pentágono



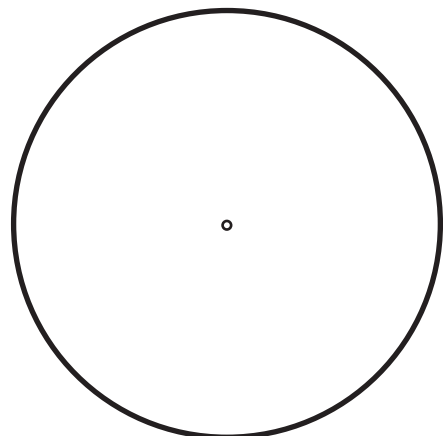
Hexágono



Heptágono



Octógono



Apellido Apellido, Nombre

Fecha


Nº Lista y grupo



Título de la lámina
7- Polígonos dada la circunferencia

Dado el radio de circunferencia a: Construir un polígono regular de n (13) lados:

a



Apellido Apellido, Nombre

Fecha

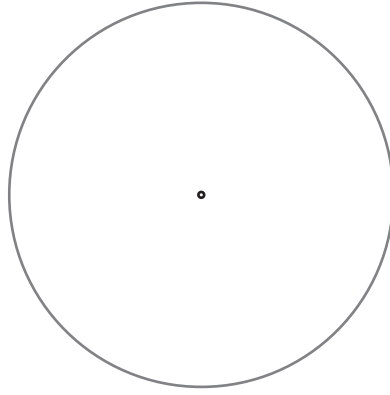
Nº Lista y grupo

Título de la lámina

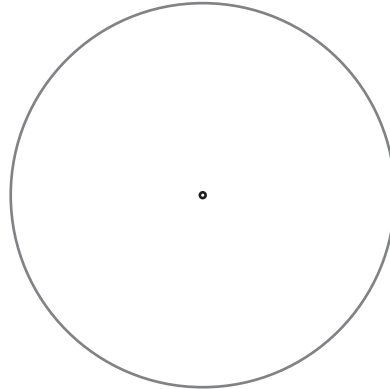
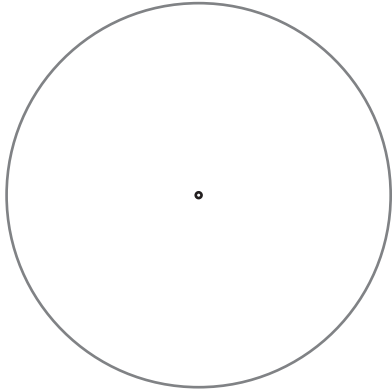
LA SLAMINAS . ES

8-Costrucción de polígonos de n lados

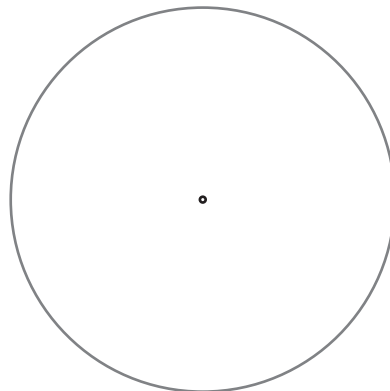

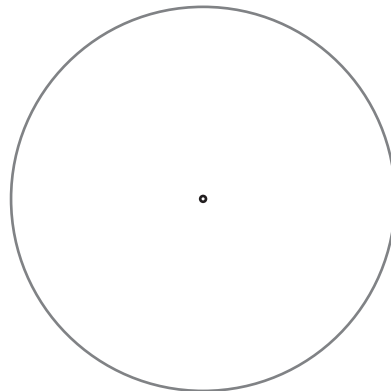
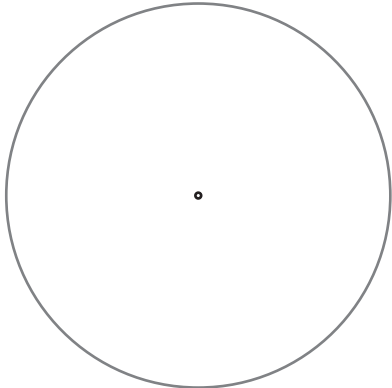
Pentágono: Paso 2



Heptágono: Paso 2 y Paso 3



Endecágono: Paso 2, Paso 3, Paso 4 y Paso 5



Apellido Apellido, Nombre

Fecha

Nº Lista y grupo

Título de la lámina

LA SLAMINAS . ES

9-Polígonos Estrellados