
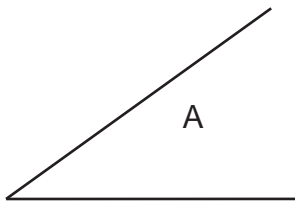
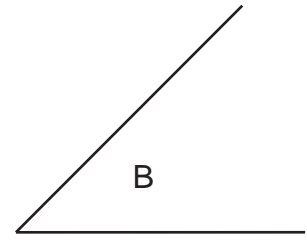


NOTA IMPORTANTE: Se debe remarcar la solución de cada ejercicio a tinta y tener máximo cuidado en la limpieza y claridad de la presentación

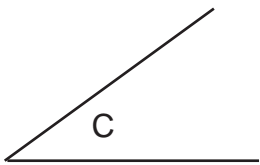
Con compás y regla, transporta el ángulo A sobre la recta r colocando el vértice en el punto V.



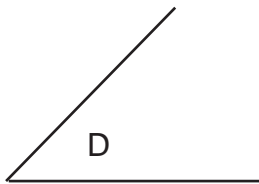
Traza la bisectriz del ángulo B.



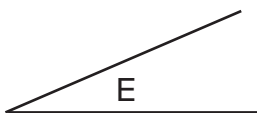
Abajo a la izquierda se te presentan tres ángulos. Realiza las operaciones que se piden sobre cada recta. Es importante que señales con los símbolos cada ángulo y remarques claramente la solución.



Sobre la recta s, colocando el vértice en el punto P, dibuja el ángulo C+D.



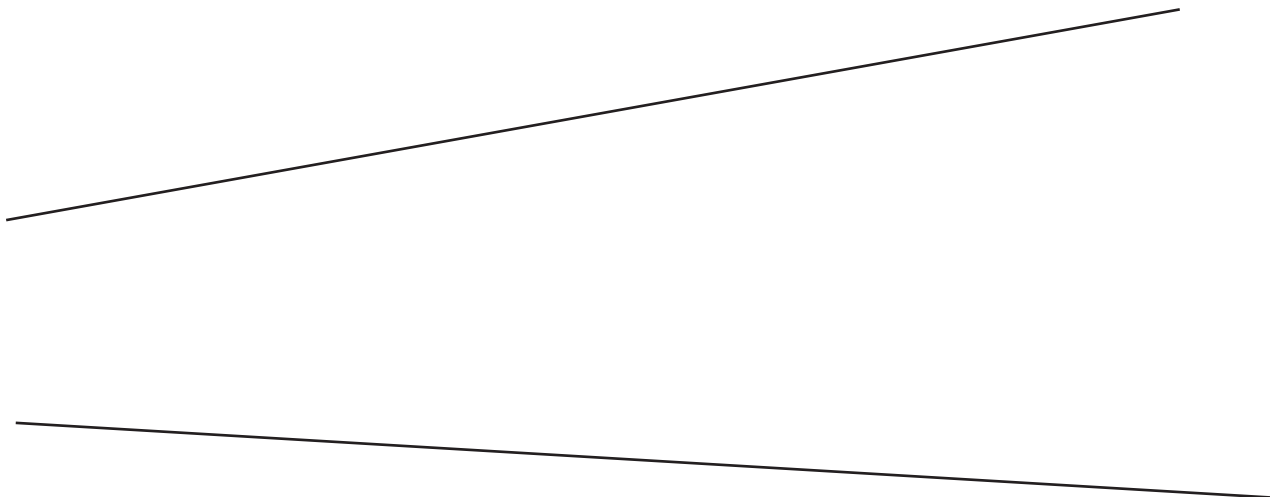
Sobre la recta t, colocando el vértice en el punto Q, dibuja el ángulo D-E.



Sobre la recta r, colocando el vértice en el punto V, dibuja el ángulo C+D-E.



Traza la bisectriz de este ángulo



Apellido Apellido, Nombre

Fecha

Nº Lista y grupo

LASLAMINAS.ES

Título de la lámina

Operaciones con ángulos