



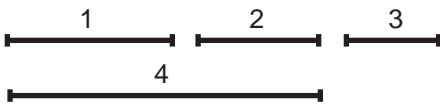
Divide el segmento AB en 9 partes iguales



Divide el cuadrado en 25 cuadrados iguales. Debes dividir dos de sus lados contiguos en 5 partes iguales mediante el teorema de Tales y posteriormente trazar paralelas con escuadra y cartabón por las divisiones.



Divide el segmento AB en PARTES PROPORCIONALES a los segmentos 1, 2, 3 y 4 DADOS:



NOTA IMPORTANTE: Se debe remarcar la solución de cada ejercicio a tinta y tener máximo cuidado en la limpieza y claridad de la presentación

Apellido Apellido, Nombre	Fecha

Nº Lista y grupo	Título de la lámina